



## 4. Sınıf Deneme Sınavı - 1 -



ADI :  
SOYADI :  
SINIFI :  
NO :



Muhammet ÖZENÇ  
Salih ÖZENÇ  
Kasım - 2018

1 ) "Amcamı karşılamak için otogara gittik. Otogar "İğne atsan yere düşmez" derler ya, öyleydi. Biraz bekledikten sonra amcam geldi."

**Yukarıdaki metinde verilen altı çizili söz hangi anlamda kullanılmıştır?**

- A) Çok gürültülü                      B) Büyük  
C) Çok kalabalık                      D) Rüzgarlı

- 2 )    1. çalışmalıyız  
      2. planlı  
      3. düzenli  
      4. ve  
      5. ders

**Yukarıdaki kelimelerden anlamlı ve kurallı bir cümle oluşturulduğunda sıralama hangi şekilde oluşur?**

- A) 1-2-3-4-5                      B) 2-3-4-5-1  
C) 3-4-5-1-2                      D) 2-4-3-5-1

3 ) "... Yolda arkadaşımı gördüm ona Fen bilimleri dersim ile ilgili bir ödevim olduğunu ve ne yapacağımı bilmediğimi söyledim. Arkadaşım da bana kütüphaneye gitmemi söyledi. Kütüphanede araştırma yaparak ödevim hakkında bilgi sahibi olabilirmişim..."

**Yukarıdaki paragrafın konusu hangisidir?**

- A) Kütüphane                      B) Kitap  
C) Fen bilimleri                      D) Araştırma

4 ) "Aziz Sancar, 8 Eylül 1946'da Mardin'in Savur ilçesinde, orta gelirli çiftçi ailesinin sekiz çocuğundan yedincisi olarak dünyaya geldi. İlk, orta ve lise eğitimini Mardin'de tamamladı. 1963 yılında girdiği İstanbul Üniversitesi Tıp Fakültesi'den 1969 yılında birincilikle mezun oldu. DNA onarımı, hücre dizilimi, kanser tedavisi ve biyolojik saat üzerinde çalışmalarını sürdüren Sancar, 415 bilimsel makale ve 33 kitap yayınladı..."

**Bu metinde "Aziz SANCAR" ile ilgili hangi bilgiye değinilmemiştir?**

- A) Nerede doğduğuna  
B) Evli olup olmadığına  
C) Hangi üniversiteden mezun olduğuna  
D) Kaç makale yayınladığına

5 ) "Üniversite okumak için memleketimden, baba ocağından kalkıp geldim bu koca şehire. Bir hayalim vardı. Onu gerçekleştirmenin ilk adımını üniversite okumak. Başlarda zevkli gibiydi ama daha sonraları annem, babam ve kardeşlerim burnunda tütmeye başladı. Tatilin gelmesini sabırsızlıkla bekliyordum."

**Yukarıdaki metinde verilen "Burnunda tütme" deyiimiyle ne anlatılmak istenmektedir?**

- A) Özlemek                      B) Sevinmek  
C) Sinirlenmek                      D) Ateşlenmek

6 ) "Annem misafirlere evin bahçesinde çok güzel bir sofrayı hazırlamıştı."

**Yukarıdaki cümlede aşağıdakilerden hangisinin cevabı yoktur?**

- A) Ne?                      B) Nasıl?  
C) Kim?                      D) Nerede?

7) " Aslanlar belli sayıda gruplar halinde birlikte yaşayan canlılardır. Bu birliktelikleri sayesinde avlanırlar. Kendilerinden daha büyük canlıları bile birlikte kolayca alt edebilirler."

**Yukarıdaki metinde verilmek istenen mesaj hangisidir?**

- A) Hayvanları koruyalım.
- B) Bu dünya hepimizin.
- C) Birlikten kuvvet doğar.
- D) Çalışmak lazım.

misafir

akıl



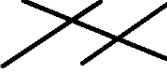
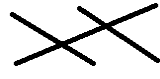
fert

birey

konuk

us

8) Yukarıdaki kelimeler **eş anlamlılarıyla** eşleştirilince nasıl bir şekil oluşur?

- A)  B) 
- C)  D) 

9) "Dün akşam oynanan maçta milli takımımız **mağlup** oldu."

Yukarıdaki cümledeki altı çizili kelimenin **zıt anlamı** hangisidir?

- A) Yenilgi
- B) Kaybarmek
- C) Başarılı
- D) Galip

10) Aşağıdaki cümlelerin hangisinde **hayal ürünü** bir durumdan bahsedilmektedir?

- A) Gelecek hafta pikniğe gideceğiz.
- B) Sabah kahvaltıda süt içtim.
- C) Bahçamızdaki kavak ağacı bulutlara kadar uzanıyor.
- D) Babam bayram için mavi bir ayakkabı aldı.

11) Aşağıdaki cümlelerin hangisinde **eş anlamlı** bir kelime **kullanılmamıştır**.

- A) Gökyüzünde bir uçak uçuyor.
- B) Kanepede sarı renkli yastık var.
- C) Yüzümde sivilce çıktı.
- D) Fakir aileye kömür aldık.

12) "**Arkadaşım yere düşünce üzerindeki kıyafeti ıslandı.**"

Yukarıdaki cümlede kullanılan kelimelerin eş anlamları aşağıda verilmiştir. Verilen kelimelerden hangisi yanlıştır?

- A) Kuzen
- B) Zemin
- C) Elbise
- D) Yaş

13) Aşağıdaki kelimelerden hangisinde **daha fazla harf** kullanılmıştır?

- A) Teleferik
- B) Gömlek
- C) Kurabiye
- D) Çekirdek

Kedi

Kelebek

Köpek

Kurt

14) Yukarıdaki kelimeleri sözlük sırasına göre sıraladığımızda hangi kelime **en sona gelir**?

- A) Kedi
- B) Kurt
- C) Köpek
- D) Kelebek

15) "Kahve rengi masanın üzerinde bulunan kırmızı kutunun içindeki sarı zarftaki yeşil kağıttaki yazılar mavi renklidir."

Yukarıdaki cümleye göre **zarf** hangi renktir?

- A) Kırmızı
- B) Yeşil
- C) Sarı
- D) Mavi

16 ) Ahmet eş anlamlı kelimeler ile ilgili bir sunum yaparken aşağıdaki örnekleri kullanmıştır. Hangi örneği **doğru değildir**?

- A) Nehir - Irmak
- B) Gökyüzü - Sema
- C) Cahil - Bilgili
- D) Dünya - Cihan

17 ) Aşağıdaki cümlelerin hangisinde **zıt anlamlı** kelimeler aynı cümlede kullanılmıştır?

- A) Dün gece hava çok soğuktu.
- B) Karanlıktan korkarım.
- C) Al bayrağımız semada dalgalanıyor.
- D) Adalet zengin ve fakir için eşittir.

18 ) Dağlarımız yalçındır geçilmez.  
Sularımız soğuktur içilmez.  
Ne çok göresim geldi seni.  
Bir varsam, toprağını öpsem.

Yukarıdaki şiirin **ana duygusu** hangisidir?

- A) Özlem
- B) Utanma
- C) Pişmanlık
- D) Acıma

19 ) Aşağıdaki cümlelerden hangisinde noktanın kullanımında bir **yanlışlık** yapılmıştır?

- A) Dr. Melis hastalarını tedavi etti.
- B) 17.09.2018 tarihinde okullar açıldı.
- C) Saat 10:30' da buluşalım.
- D) Koşu yarışında Ahmet 1. oldu.

20 ) "Senin annen pazardan elma( ) armut( ) domates( ) patates( ) limon almayacak mıydı( )"

Yukarıdaki boşluklar tamamlandığında en çok hangi **noktalama** işareti kullanılmış olacaktır?

- A) Nokta
- B) Virgül
- C) Soru işareti
- D) Ünlem

## TATLI DİL

Mağaza vitrinlerindeki mankenleri bilirsiniz. Hepsi de güler yüzlüdür. Ama dilleri olmadığı için soğukturlar.

İnsanları da güzel yapan, sıcak yapan dildir. Ama her dil değil. Dilin de tatlısı olmalı. Çünkü o dil, ağzın içinde her dönüşünde can yakar, kalp kırar. Bıçağın açtığı yara, zamanla kapanır, dil yarası ise kapanmak nedir bilmez. Ama tatlı dil, öylemi ya? Yılanı deliğinden çıkarır, derler. Güzel konuşmayı, hüner saymalı. Tatlı konuşmalarıyla tanınmış insanlar vardır. Onları dinlemek, başlı başına bir zevktir. Hani bazı insanlar için "ağzından bal akıyor." derler ya. İşte bu ağızdan akan bal, tatlı dilin balıdır.

Mademki tatlı dil, her kapıyı açan sihirli bir anahtardır: "Öyle ise ne duruyoruz? Dilimizi tatlılaştıralım ." diyeceksiniz. Gönülleri fetheden tatlı dil, bütün gücünü gönülden alır. İnsanın dilinin tatlı olması için, gönlünün tatlı, iyi olması gerekir. Asık suratlı bir insanın dökeceği tatlı dil, tilkinin kargaya döktüğü tatlı dil gibidir. Yüreği sevgi dolu insanın dili, kendiliğinden tatlılaşır.

**21-22-23-24-25. soruları yukarıdaki metne göre cevaplayınız.**

21 ) Mağaza vitrinlerindeki mankenler neden **soğukturlar**?

- A) Üşüdükleri için.
- B) Güzel yüzlü oldukları için.
- C) Dilleri olmadığı için.
- D) Giysileri olmadığı için.

22 ) İnsanları güzel yapan, sıcak yapan nedir?

- A) Gözleridir
- B) Yüzüdür
- C) Saçlarıdır
- D) Dilidir

23 ) Metne göre her kapıyı açan **sihirli anahtar** nedir?

- A) Bilgidir
- B) Tatlı dil
- C) Güler yüz
- D) Para

24 ) İnsanın dilinin tatlı olması için **temel şart** nedir?

- A) Gönlünün tatlı olması gerekir.
- B) Kötülük yapmaması gerekir.
- C) Az konuşması gerekir.
- D) Tatlı şeyler yemesi gerekir.

25 ) Bu metnin verdiği mesaj nedir?

- A) İyilik yapan iyilik bulur.
- B) Tatlı dilli olmak.
- C) Kötüler hiçbir zaman kazanamaz.
- D) Konuşmak için dinlemek gerekir.

## MATEMATİK



- 1 ) Yukarıdaki resimde gösterilen il nüfus tabelasındaki 6 basamaklı sayının okunuşu hangisidir?
- A) İki yüz beş yüz
  - B) İki yüz bin beş yüz
  - C) Üç yüz elli dört
  - D) İki yüz yetmiş beş bin beş yüz
- 2 ) Okunuşu **yüz iki bin yüz yirmi** olan sayı hangisidir?
- A) 102102
  - B) 120020
  - C) 102120
  - D) 102012

80208

- 3 ) Yukarıdaki sayının çözümlenmiş hali hangisidir?
- A) 8 onbinlik + 2 yüzlük + 8 onluk
  - B) 8 onbinlik + 2 yüzlük + 8 birlik
  - C) 8 binlik + 2 yüzlük + 8 birlik
  - D) 8 binlik + 2 onluk + 8 birlik



- 4 ) Yukarıdaki sayının yuvarlanacağı **en yakın yüzlük** hangisidir?
- A) 34500
  - B) 34600
  - C) 34540
  - D) 34550

3455

3545

3554

3456





- 5 ) Yukarıdaki sayılar küçükten büyüğe doğru sıralandığında **baştan ikinci** sıraya hangisi **yazılmalıdır**?
- A) 3545
  - B) 3554
  - C) 3455
  - D) 3456

$$\begin{array}{r} 2AB \\ + C75 \\ \hline 502 \end{array}$$

- 6 ) Yukarıdaki toplama işleminde  $A+B+C$  kaçtır?
- A) 11
  - B) 12
  - C) 13
  - D) 14

TV	3549 TL
Bilgisayar	3199 TL
Yazıcı	1149 TL

7) Yukarıda bazı elektronik eşyaların fiyatları verilmiştir. Aşağıdaki kişilerden hangisinin yaptığı alışverişe **en fazla** para harcamıştır?

- A)  Ben TV ve Yazıcı aldım.
- B)  Ben Bilgisayar ve yazıcı aldım.
- C)  Ben TV aldım.
- D)  Ben bilgisayar aldım.

$$(2 \times 10000) + (1 \times 1000) + (5 \times 100) + (3 \times 1)$$

8) Yukarıda çözümlenmesi verilen sayı hangisidir?

- A) 21530                      B) 21503  
C) 21053                      D) 20153

9) Aşağıdaki sayılardan hangisi **farklı bir onluğa** yuvarlanır?

- A) 78                              B) 76  
C) 85                              D) 84

10) Aşağıdaki sıralamalardan hangisi doğru **değildir**?

- A)  $1029 > 1019 > 1009$   
B)  $5245 > 5124 > 5024$   
C)  $269 < 1587 < 5669$   
D)  $2233 < 2332 < 2323$

**9 - 4 - 3 - 0**

11) Yukarıdaki rakamları kullanarak yazılabilecek dört basamaklı **en büyük** sayı hangisidir?

- A) 943                              B) 9340  
C) 9403                              D) 9430

12) Aşağıdaki toplama işlemlerinden hangisinin işlemi doğru **değildir**?

- A) 
$$\begin{array}{r} 2663 \\ + 1558 \\ \hline 4221 \end{array}$$
- B) 
$$\begin{array}{r} 2088 \\ + 1058 \\ \hline 3156 \end{array}$$
- C) 
$$\begin{array}{r} 4047 \\ + 1995 \\ \hline 5042 \end{array}$$
- D) 
$$\begin{array}{r} 2117 \\ + 1228 \\ \hline 3345 \end{array}$$

1 - 2 - 4 - 8 - 16 - 32 - 64 - 128 - ? -

13) Yukarıdaki sayı örüntüsünde soru işaretli yere hangi sayı **gelmelidir**?

- A) 192                              B) 256  
C) 246                              D) 255

29 - 36 - 32 - 39 - 35 - 42 - 38 - 45 - ? -

14) Yukarıdaki sayı örüntüsünde soru işaretli yere hangi sayı yazılmalıdır?

- A) 41                              B) 52  
C) 49                              D) 42

$$\begin{array}{r} 1095 \\ + 1028 \\ \hline \end{array} \quad \begin{array}{r} \dots\dots\dots \\ + 1157 \\ \hline ? \end{array}$$

15 ) Yukarıdaki işlemler yapıldığında soru işaretli yere hangi sayı yazılmalıdır?

- A) 3340                      B) 3280  
C) 3270                      D) 3180

16 ) ( 3 - 0 - 1 - 4 ) Yandaki rakamlar kullanılarak yazılabilecek dört basamaklı en büyük sayıya üç basamaklı en büyük sayıyı eklersek sonucu kaç buluruz?

- A) 4310                      B) 5309  
C) 5129                      D) 5229

$$134 + 50 + 20 > \star$$

17 ) Yukarıdaki işlemde  $\star$  yerine yazılabilecek **en büyük** sayı kaçtır?

- A) 204                      B) 184  
C) 205                      D) 203

18 ) Ahmet okula giderken 2408 adım atmıştır. Ahmet sadece okula gidip hemen geri eve döndüğüne göre; Ahmet kaç adım atmıştır?

- A) 4816                      B) 2408  
C) 4806                      D) 4916

19 ) Dört basamaklı **en büyük çift** sayı ve dört basamaklı **en küçük tek** sayı kaçtır?

- A) 9999 ile 1000    B) 9998 ile 1001  
C) 9999 ile 1001    D) 9998 ile 1000



20 ) Yukarıdaki saatteki rakamları birer defa kullanarak yazılabilecek dört basamaklı **en büyük** sayı ile yine aynı rakamları birer defa kullanarak yazılabilecek dört basamaklı **en küçük** sayının toplamı kaçtır?

- A) 7510                      B) 8567  
C) 8557                      D) 7610

$$295381$$

21 ) Yukarıdaki sayıdaki **en büyük** rakamın basamak adı nedir?

- A) Yüz binler                      B) Binler  
C) On binler                      D) Yüzler

22 ) Hangi sayıya 2168 eklersek sonucu 5472 buluruz?

- A) 5640                      B) 3204  
C) 3314                      D) 3304

1	2	A
3	B	2
C	3	1

23 ) Yukarıdaki tabloda sayılar yukardan aşağı ve soldan sağa toplandığında aynı sonucu vermektedir. Buna göre A + B + C toplamı kaç olur?

- A) 6                                      B) 5  
C) 4                                      D) 7



24 ) Yukarıdaki ceviz çuvallarında eşit sayıda ceviz bulunmaktadır. Her bir çuvalda 1185 tane ceviz olduğuna göre; yukarıda toplam kaç ceviz vardır?

- A) 1188  
B) 3555  
C) 3455  
D) 3545

25 ) Ben dört basamaklı bir sayıyım. Ama binler basamağındaki rakam en büyük çift rakam, birler basamağı ise en küçük tek rakamdır. Geri kalan boşluklara da sadece beş rakamını yazman yeterli. Ben hangi sayıyım acaba?

- A) 9550  
B) 8551  
C) 8551  
D) 9551

## FEN BİLİMLERİ

1 ) Aşağıdakilerden hangisi bir maden **değildir**?



A) Taş



B) Bakır



C) Altın

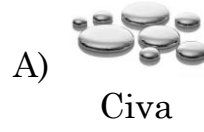


D) Bor

2 ) Dünyamızın kaç türlü hareketi vardır?

- A) 1  
B) 2  
C) 3  
D) 4

3 ) Aşağıdaki madenlerden hangisi mutfaklarda ve mezar taşlarının yapımızda kullanılır?



A) Civa



B) Bakır



C) Mermer



D) Bor

4 ) Hangisi eski zamanlarda yaşamış olan canlıların kayaçlar içinde bulunan kalıntılara verilen adıdır?

- A) Kaya  
B) Taş  
C) Maden  
D) Fosil

5 ) "Ekonomik değeri olan kayaçlara ..... denir."

Yukarıdaki cümle hangisiyle tamamlanmalıdır?

- A) Maden  
B) Fosil  
C) Kayaç  
D) Mineral

6 ) I. Sadece hayvanların fosili olur.

II. Bitkilerin fosili olmaz.

III. Uzun yıllar içinde oluşmuşlardır.

IV. Günümüzde yaşayan veya nesli tükenmiş canlılara ait olabilir. Yukarıdaki bilgilerden hangisi veya hangileri **doğrudur**?

- A) I ve III  
B) III ve IV  
C) II ve III  
D) II ve IV

7 ) Dünya' nın kendi eksenini etrafında dönüşü ile ilgili hangi bilgi doğru **değildir**?

- A) Gece - gündüz oluşur.  
B) 24 saatte tamamlar  
C) Mevsimler oluşur.  
D) Gün içinde gölge boyu değişir.



- 8) Dünya' nın Güneş etrafında dönüşü ile ilgili bilgilerden hangisi doğru **değildir**?
- A) Mevsimler oluşur.  
B) Yıllık sıcaklık farkları oluşur.  
C) 365 gün 6 saatte tamamlanır.  
D) 24 saatte tamamlar.




- 9) Yukarıdaki A noktası için hangisi **doğrudur**?
- A) Gece vaktidir.  
B) Sabah vaktidir.  
C) Güneş batmak üzeredir.  
D) Gündüz vaktidir.

- 10) Aşağıdakilerden hangisi canlıların beslenme nedenlerinden **değildir**?
- A) Büyümek ve gelişmek için.  
B) Şişmanlamak için.  
C) Enerji kazanmak için.  
D) Hayatta kalmak için.

- 11) Aşağıdakilerden hangisi hayvansal bir besin **değildir**?
- A) Süt  
B) Yumurta  
C) Meyveler  
D) Et

- 12) Aşağıdakilerden hangisinin beslenmeye ihtiyacı **yoktur**?







- 13) Aşağıdakilerden hangisi besin içeriklerinden biri **değildir**?
- A) Madenler  
B) Yağlar  
C) Karbonhidratlar  
D) Proteinler

- 14) Aşağıdakilerden hangisi hayvansal yağlardan **değildirler**?
- A) Kaymak  
B) Zeytin yağı  
C) Tereyağı  
D) Kuyruk yağı

- 15) "**Yapıcı ve onarıcı olarak da bilinirler**"  
Yukarıdaki anlatıma karşılık gelen kelime hangisidir?
- A) Karbonhidratlar  
B) Yağlar  
C) Proteinler  
D) Vitamin

- 16) Aşağıdaki çocuklardan hangisi  **dengeli beslenmektedir**?

- A)  Ben sadece makarna yerim.  
B)  Her öğle hamburger yerim.  
C)  Yemeklerde su yerine asitli içecek içerim.  
D)  Her besinden yeteri kadar yerim. Ne az ne de çok.

- 17) Aşağıdakilerden hangisi **karbonhidrat** bakımından zengin bir besindir?
- A) Patates  
B) Muz  
C) Yumurta  
D) Tereyağı

- 18) "**Vücudumuzun ..... sudur.**"  
Yukarıdaki boşluğa aşağıdakilerden hangisi **yazılmalıdır**?
- A) Yarısı  
B) Dörtte üçü  
C) Çeyreği  
D) Tamamı

19 ) "Dünyamızın kendi eksenini etrafında dönmesini tamamlamasına Dünyamızın ..... hareketi denir."

Yukarıdaki cümledeki boşluk hangi kelime ile tamamlanır?

- A) Yıllık B) 24 saat  
C) Günlük D) 365 gün

20 ) Dünyamızın kendi eksenini etrafında dönerken hangi yöne doğru döner?

- A) Kuzeyden güneye doğru  
B) Doğudan batıya doğru  
C) Güneyden kuzeye doğru  
D) Batıdan doğuya doğru

21 ) Aşağıdaki bilgilerden hangisi doğru **değildir**?

- A) Güneş, Dünya etrafında döner.  
B) Dünya, Güneş etrafında döner.  
C) Dünya kendi eksenini etrafında döner.  
D) Ay, Dünya'nın uydusudur.

22 ) "Diş dolgusunda, boya sanayisinde ve termometre yapımında kullanılır."

Yukarıda hangi maden ile ilgili bilgi verilmiştir?

- A) Altın B) Cıva  
C) Gümüş D) Krom

23 ) Dünyamızın şekli neye benzemektedir?

- A) Küp B) Tepsi  
C) Küre D) Koni

24 ) "Vitaminler vücudumuzda ..... olarak görev yapmaktadırlar."

Yukarıdaki boşluk hangisiyle tamamlanmalıdır?

- A) Yapıcı B) Onarıcı  
C) Besleyici D) Düzenleyici

25 ) "Metin, arkadaşları ile top oynarken ayağı takılıp yere düştü ve kolunu kırdı."

Metin'in iyileşebilmesi için hangi besin içeriği besinlerden tüketmelidir?

- A) Mineral B) Yağ  
C) Karbonhidrat D) Protein

## SOSYAL BİLGİLER

1 ) Aşağıdaki verilen özelliklerden hangisi **kişiye özeldir**?

- A) Kilo B) Boy  
C) Göz rengi D) Parmak izi

2 ) Yeni kimliklerimizdeki çipli bölümde aşağıdaki bilgilerden hangisi **bulunmamaktadır**?

- A) Kişinin parmak izi bilgisi.  
B) Nüfus kayıt bilgileri.  
C) Boy ve ağırlık bilgisi.  
D) Fotoğraf bilgisi

3 ) Aşağıdaki bilgilerden hangisi yeni ve eski kimlik kartlarımızın ortak özellikleri arasında **değildir**?

- A) Ad soyad bilgisi  
B) Kadın erkek kimlik rengi  
C) Anne ve baba adı  
D) TC kimlik no bilgisi



Sayılarla uğraşmaya, problem çözmeye bayılırım.

Musa

4 ) Yukarıdaki arkadaşın en sevdiği ders hangisi **olabilir**?

- A) Matematik B) Müzik  
C) Sosyal bilgiler D) Türkçe

5) Bir kişinin kimliğine bakarak aşağıdaki bilgilerden hangisini **öğrenemeyiz?**

- A) Yaşını
- B) Türkiye vatandaşı olduğunu.
- C) Anne ve baba adını
- D) Boy uzunluğunu

6) Her insana vatandaşı olduğu devlet tarafından kimlik belgesi **ne zaman verilir?**





- A) 18 yaşını doldurduğunda.
- B) 15 yaşını doldurduğunda.
- C) Doğumundan itibaren.
- D) İlkokula başladığı an.

7) I. 1. sınıfa başlama  
II. Konuşmaya başlama  
III. Ortaokuldan mezun olma  
IV. Ana okuluna başlama

Yukarıdaki olayların **kronolojik** sıralaması hangisidir?

- A) I - II - III - IV
- B) II - IV - I - III
- C) III - IV - I - II
- D) IV - III - II - I

8) Aşağıdaki çocuklardan hangisi duygusundan **bahsetmiştir?**

- A)  Arkadaşımın hasta olmasına çok üzuldüm.
- B)  Kedilerin dört ayağı vardır.
- C)  İnsanların farklılıklarına saygılı olmalıyız.
- D)  Uçan hayvanların kanatları vardır.

9) "**Bir toplumu yabancı toplumlardan ayıran kültürel değerlere ..... denir.**"

Yukarıdaki cümleyi hangisiyle **tamamlamalıyız?**

- A) Millet
- B) Milli kültür
- C) Halk oyunu
- D) Tarihi eser



I. çeyiz sandığı



II. Kahve değirmeni



III. Fotoğraf makinesi



IV. Kilim

10) Yukarıdaki eşyalardan hangileri **milli kültürümüzü** yansıtır?

- A) I ve II
- B) II ve III
- C) I , II ve IV
- D) III ve IV

11) "**İnsanın kendisini başkasının yerine koymasına ..... denir.**"

Yukarıdaki cümlede boş bırakılan yere hangisi **yazılmalıdır?**

- A) Özgüven
- B) Yetenek
- C) Rol
- D) Empati

12) Aşağıdaki cümlelerin hangisinde bir yetenekten bahsedilmektedir?

- A) İlk defa dinlediğim bir melodiyi gitarımla çalabiliyorum.
- B) Hayvan beslemeyi seviyorum.
- C) Evimde balık besliyorum.
- D) Her sabah uyanınca mutlaka yürüyüş yaparım.

13) Aşağıdaki davranışlardan hangisi kendini başkasının yerine koyma davranışına örnek **olamaz?**

- A) Ali' nin boş zamanlarında müzik dinlemesi.
- B) Murat' ın kantinde sıraya girmesi
- C) Melis' in kalemını unutan arkadaşına kalemlerinden birini vermesi.
- D) Emel' in temizlik yapan annesine yardım etmesi.

- 14 ) Ailesinin tarihi hakkında araştırma yapan bir öğrenci aşağıdaki kişilerden hangisinden **daha fazla** bilgi alabilir?  
A) Kardeşinden B) Babasından  
C) Amcasından D) Dedesinden



Aykut

Ödevlerimi mutlaka yaparım, odamı kendim toplarım ve balıklarımı ben yemlerim.

- 15 ) Aykut için aşağıdakilerden hangisini **söyleyebiliriz**?  
A) Sorumluluk sahibidir.  
B) Sinirli birisidir.  
C) İş yapmaktan hoşlanmaz.  
D) Bütün gününü evde geçirir.

- 16 ) Kültürel eşyalarımızın sergilendiği müzelere **ne denir**?  
A) Arkeoloji müzesi  
B) Bilim müzesi  
C) Etnografya müzesi  
D) Açık hava müzesi

- 17 ) Aşağıdakilerden hangisi milli kültürümüzü yansıtan öğelerden birisi **değildir**?  
A) Halk oyunları  
B) Düğün merasimlerimiz.  
C) Kız istemeler  
D) Parkta oturmak.

- 18 ) Ailesi hakkında araştırma yapacak olan bir kişi aşağıdaki sorulardan hangisi **sormaz**?  
A) Hangi takım şampiyon oldu?  
B) Yaşadığımız şehre ne zaman taşındık?  
C) İlk oturdukları evin özellikleri nelerdir?  
D) Annem ile babam ne zaman evlendiler?

Bu doğal afet yurdumuzda her an olabilir. bunu önlememiz bu günkü teknolojiyle mümkün değildir. Ama önlemler alarak zararını azaltabiliriz. Mesela evleri daha dayanıklı ve sağlam zeminli yerlere yapmak bunlardan bazılarıdır.

- 19 ) Yukarıda hangi **doğal afetten** bahsedilmektedir?

- A) Sel B) Deprem  
C) Heyelan D) Erozyon

- 20 ) "**Akın hafta içi her sabah erkenden kalkıp hazırlıklarını yaparak sevinçle okuluna gitmektedir.**"

Akın hangi hakkını kullanmaktadır?

- A) Sağlık hakkı  
B) Seyahat hakkı  
C) Eğitim hakkı  
D) Özel hayatın gizliliği

