

## Okuduğunu Anlama

TÜRKÇE

## BAHÇIVAN ve KÖPEĞİ



Bahçıvan, tarlasının sulamak için kuyudan su çekiyordu. Kuyunun etrafında koşuşan, durup durup kuyuya bakarak havlayan küçük köpeği dengesini kaybetti ve kuyuya düştü.

Bahçıvan derhal gömleğini, pantolonunu ve ayakkabılarını çıkardı ve kuyuya indi. Köpeği tam kucağına alıp yukarı çıkacağı sırada, bu kadirbilmez, nankör köpek efendisinin elini ısırıverdi.

Bahçıvan, "Demek seni doyuran, ölümden kurtaran birine sen böyle teşekkür edeceksin; o halde kuyudan da kendin çık." dedi ve köpeği tekrar kuyuya bıraktı.

Soruları okuduğunuz metne göre cevaplayınız.

1. Kim kuyuya düştü?

---



---



---



---

3. Bahçıvan niçin kuyuya indi?

---



---



---



---

2. Köpek nerede oynuyordu?

---



---



---



---

4. Köpek ne zaman bahçıvanın elini ısırdı?

---



---



---



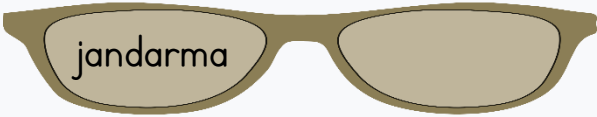

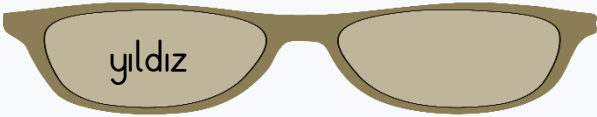




---

## Harf Bilgisi

TÜRKÇE

Aşağıdaki kelimelerden Türkçe olanların gözlüğüne T, yabancı dilden geçenlerin gözlüğüne Y yazınız.



Aşağıdaki cümlelerde boş bırakılan yerleri verilen uygun kelimelerle tamamlayınız.



www.derslig.com

Türkçe sözcüklerin ..... "ğ" bulunmaz.

Türkçe sözcüklerin sonunda iki ..... bulunmaz.

Sözcükleri sesleri yazmaya yarayan işaretlere ..... denir.

..... sözcüğü dilimize başka dillerden geçmiştir.

## Okuduğunu Anlama

TÜRKÇE

## TILKI ve SALKIM SALKIM ÜZÜMLER



Açlık ve susuzluktan halsiz düşmüş bir tilki bir üzüm bağına daldı. Güneşin olgunlaştırdığı üzümler ağızını sulandırıyor. Ne var ki, asmalardaki salkımlar da onun yetişemeyeceği kadar yüksekte idiler. Tilki sıçradı ama başaramadı. Bir daha denedi, yine erişemedi. Üçüncü denemesi de netice vermeyince, kendi kendine mırıldandı: "Zaten o üzümleri yemek istememiştim ki. Hem ben onların ağza konamayacak kadar ekşi olduklarını da biliyorum."

Soruları okuduğunuz metne göre cevaplayınız.

1. Tilki nereye girdi?

---

---

---

---

3. Tilki üzümlerin nasıl olduğunu düşünüyor mu?

---

---

---

---

2. Tilki ne zaman üzümleri yemekten vazgeçti?

---

---

---

---

4. Tilki niçin üzüm bağına daldı?

---

---

---

---

## Harf Bilgisi

TÜRKÇE

Aşağıda verilen kelimelerden Türkçe kurallara uymayanlara işaret koyalım.

Aşağıdaki sözcüklerdeki sesli harfleri verilen alana yazalım.



Eskişehir

E,i,e,i

siyah

telefon

bant

metre

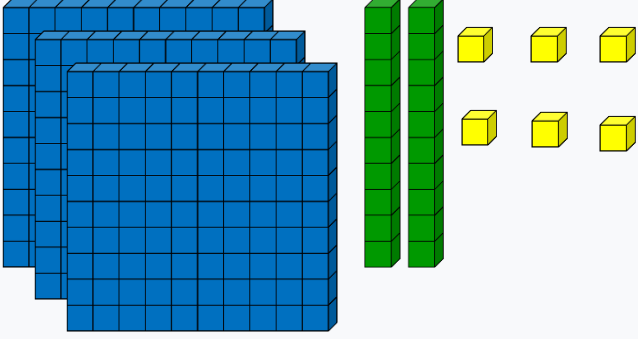
saat

findık

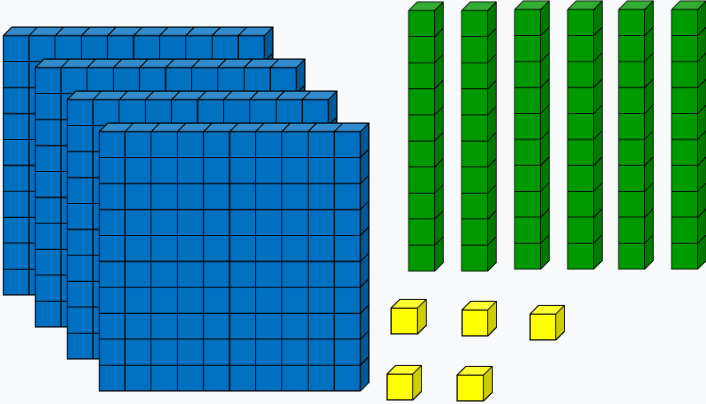
## Üç Basamaklı Doğal Sayılar

MATEMATİK

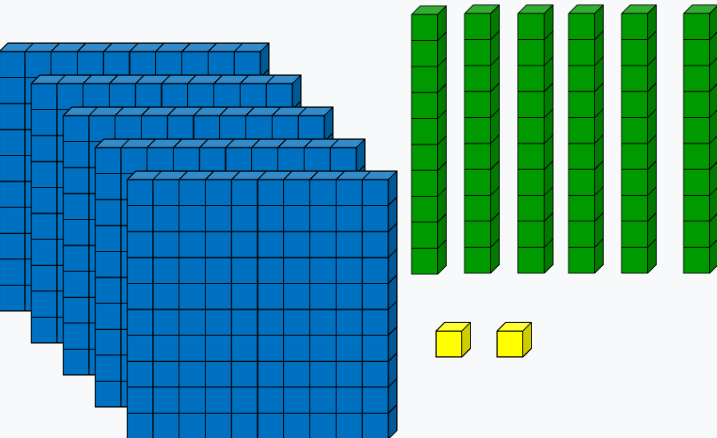
Taban blokları ile oluşturulan sayıları rakamla yazınız.



Yüzler	Onlar	Birler



Yüzler	Onlar	Birler




Yüzler	Onlar	Birler


## Üç Basamaklı Doğal Sayılar

MATEMATİK

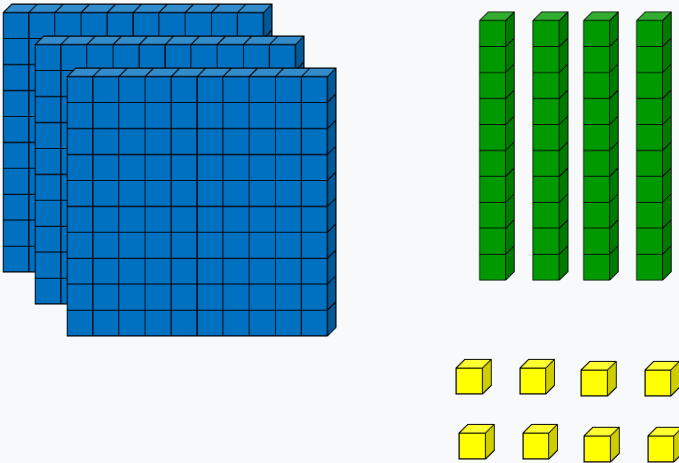
Taban blokları ile oluşturulan sayıları rakamla yazınız.



Yüzler	Onlar	Birler



Yüzler	Onlar	Birler



Yüzler	Onlar	Birler

## Üç Basamaklı Doğal Sayılar

MATEMATİK

Rakamla verilen sayıların okunuşlarını yazınız.

255	
453	
736	
863	
471	
846	
777	
120	
160	

Okunuşları verilen sayıları rakamla yazınız.

Yedi yüz seksen beş	
Altı elli iki	
Dört yüz doksan beş	
Sekiz yüz elli altı	
Dört yüz elli üç	
Dokuz yüz yedi	
Yüz beş	
Sekiz yüz otuz iki	
Beş yüz elli beş	

## Üç Basamaklı Doğal Sayılar

MATEMATİK

Sayıların okunuşlarını tablodan bulun ve istenilen renge satırdaki sayıyı boyayın.

120

570

900

705

800

750

403

801

290

610

390

A	D	Ö	R	T	Y	Ü	Z	Ü	Ç	S	D
Y	D	S	S	E	K	İ	Z	Y	Ü	Z	F
M	Y	Ü	Z	Y	İ	R	M	İ	K	L	J
J	Y	E	D	İ	Y	Ü	Z	E	L	L	İ
B	E	Ş	Y	Ü	Z	Y	E	T	M	İ	Ş
L	İ	Y	K	İ	D	O	K	S	A	N	O
R	Ü	Ç	Y	Ü	Z	D	O	K	S	A	N
Y	E	D	İ	Y	Ü	Z	B	E	Ş	L	K
T	Y	A	L	T	İ	Y	Ü	Z	O	N	A
P	S	E	K	İ	Z	Y	Ü	Z	B	İ	R
C	D	E	D	O	K	U	Z	Y	Ü	Z	M



## Güçlü ve Gücsüz Yönlerimiz

Aşağıda verilenlerden hangisi büyümemize bağlı olarak değişir? İşaretleyiniz.

Yapabildiğimiz işler

Göz rengimiz

Kilomuz

Boyumuz

Sorumluluklarımız

Yeteneklerimiz

Saçımızın rengi

Sevdiğimiz oyunlar

Aşağıdaki ifadelerden doğru olanların başına 'D' , yanlış olanların başına 'Y' yazalım

- Herkesin güçlü ve zayıf yönleri vardır.
- Sadece güçlü özelliklerimiz bizim için önemlidir.
- Zayıf yönlerimizi saklamalıyız
- Öğretmenimizin hiç zayıf yönü yoktur.

Aşağıda verilenlerden yapabildiklerinizi işaretleyiniz.

Çarpma işlemini yapabilme

Tek başına yolculuğa çıkma

Resim çizebilme

Kitap okuyabilme

Evi temizleyebilme Bisiklet

Bisiklet sürebilme

Odamı toplayabilme

Markete gidebilme

## Dünya'nın Şekli

FEN BİLİMLERİ

Dünyamızın şekline benzeyen cisimleri işaretleyelim.



Aşağıda çevremizi korumak için bazı davranışlar sıralanmıştır. Yaptıklarınızı işaretleyiniz.



Dünya'mızın, kutuplardan basık, ekvatorundan şişkin bir görünüme sahiptir. Dünya'nın bu şekline Geoit denir.



Dünyamız tam ortasından geçtiği düşünülen bir eksen etrafında dönmektedir.



Çöpleri çöp kutusuna atmaya özen gösteririm.



Dünya, Güneş'in çevresinde dolanmaz



Dünya, küre şeklinde olup; kutuplardan biraz basıktır



Dünya, bu eksen etrafında doğudan batıya doğru döner.



Dünya'mızı dört eşit parçaya böldüğünü varsaydığımız çizgiye Ekvator denir



Atık malzemeleri ayrı ayrı çöplere atarım



Dünya'mızın şekli dairedir.